

MAHARSHI DAYANAND UNIVERSITY ROHTAK
CLERK-CUM-JUNIOR DATA ENTRY OPERATOR WRITTEN TEST- 2012
(MORNING SHIFT)

Answer-Key to Question Booklet Set - Y

CODE : D

1 - 2	26 - 4	51 - 4	76 - 3
2 - 2	27 - 1	52 - 1	77 - 2
3 - 2	28 - 2	53 - 2	78 - 4
4 - 4	29 - 4	54 - 3	79 - 1
5 - 4	30 - 2	55 - 3	80 - 4
6 - 1	31 - 1	56 - 2	81 - 4
7 - 2	32 - 3	57 - 2	82 - 3
8 - 3	33 - 4	58 - 1	83 - 2
9 - 3	34 - 1	59 - 2	84 - 3
10 - 3	35 - 1	60 - 2	85 - 1
11 - 1	36 - 4	61 - 4	86 - 4
12 - 4	37 - 3	62 - 2	87 - 4
13 - 4	38 - 4	63 - 1	88 - 3
14 - 3	39 - 4	64 - 4	89 - 2
15 - 2	40 - 4	65 - 3	90 - 1
16 - 4	41 - 3	66 - 2	91 - 3
17 - 2	42 - 4	67 - 1	92 - 2
18 - 4	43 - 2	68 - 2	93 - 1
19 - 2	44 - 1	69 - 1	94 - 1
20 - 4	45 - 3	70 - 4	95 - 1
21 - 2	46 - 1	71 - 3	96 - 3
22 - 1	47 - 3	72 - 4	97 - 1
23 - 2	48 - 2	73 - 4	98 - 3
24 - 4	49 - 4	74 - 3	99 - 3
25 - 2	50 - 3	75 - 2	100 - 2


19/9/12
CLERK-CUM-JUNIOR DATA ENTRY OPERATOR
MAHARSHI DAYANAND UNIVERSITY ROHTAK

(No. of printed pages : 32)

(DO NOT OPEN THIS QUESTION BOOKLET UNTIL YOU ARE ASKED TO DO SO)

69700

(CJDEOT-2012/SET-Y)

Sr. No. _____

Code

D

Time : 90 minutes

Total Questions : 100

Max. Marks : 100

Candidate's Name _____

Date of Birth _____

Father's Name : _____

Mother's Name : _____

Roll No. _____ (in figure) _____ (in words)

Date of Exam : _____

(Signature of the Candidate)

(Signature of the Invigilator)

Candidates MUST read the following instructions carefully before starting the question paper.

प्रश्न-पत्र हल करने से पूर्व, अभ्यर्थीगण निम्नलिखित अनुदेशों को ध्यानपूर्वक पढ़ लें।

1. **All questions are compulsory.** All questions carry equal marks.

सभी प्रश्न अनिवार्य हैं। सभी प्रश्नों के अंक समान हैं।

2. Before answering the questions, the candidates should ensure that they have been supplied complete question book-lets. Complaints, if any, regarding misprinting etc. will not be entertained 15 minutes after the start of the test.

प्रश्न-पत्र हल करने से पूर्व, अभ्यर्थीगण यह सुनिश्चित कर लें, कि उन्हें पूरी प्रश्न-पत्रिका मिली है। परीक्षा शुरू होने के 15 मिनट बाद इस सन्दर्भ में कोई शिकायत नहीं सुनी जाएगी।

3. In case there is any discrepancy in any question(s) in the Question Booklet, the same may be brought to the notice of the Controller of Examinations in writing **within two hours** after the test is over. No such complaint(s) will be entertained thereafter.

यदि प्रश्न-पत्र में किसी प्रश्न से सम्बन्धित कोई त्रुटि हो तो उस बारे में लिखित सूचना/शिकायत परीक्षा समाप्त होने के दो घन्टे के अन्दर-2, परीक्षा नियंत्रक की सूचना में लाई जाए। इसके उपरान्त ऐसी किसी भी सूचना/शिकायत पर कार्यवाही नहीं होगी।

4. The candidates MUST return the complete question book-let and the OMR Answer-Sheet to the Invigilator concerned before leaving the Examination Hall, failing which a case of use of unfair means/misbehaviour will be registered against him/her, in addition to lodging of an FIR with the police. Further the answer-sheet of such candidate will not be evaluated.

परीक्षा हॉल छोड़ने से पूर्व सभी अभ्यर्थीगण अपनी पूरी प्रश्न-पत्रिका व ओ० एम० आर० उत्तर-पत्र सम्बन्धित निरीक्षक को देकर ही जाए। अन्यथा उनके विरुद्ध अनफेयर मीन्स/दूरव्यवहार का केस बनाया जाएगा और साथ ही उनके विरुद्ध पुलिस में एफ० आई० आर० भी लिखवाई जाएगी। ऐसे केस में उस अभ्यर्थी के उत्तर-पत्र की जाँच भी नहीं करवायी जाएगी।

5. The candidates MUST NOT do any rough work or writing in the OMR Answer-Sheet. Rough work, if any, may be done in the question book-let itself.

अभ्यर्थीगण ओ० एम० आर० उत्तर पत्र पर कोई भी रफ कार्य न करें। केवल प्रश्न-पत्रिका में ही रफ कार्य करें।

6. **There will be negative marking.** For every wrong answer $\frac{1}{4}$ mark will be deducted. In case you are not sure of answer or do not want to attempt any question, leave the space blank under the concerned Question No. in the OMR Answer-Sheet. Cutting, erasing, overwriting and more than one answer in the OMR Answer-Sheet will be treated as a wrong answer.

नकारात्मक आंकन होगा। प्रत्येक गलत उत्तर के लिए $\frac{1}{4}$ (चौथई) अंक कम कर दिया जाएगा। यदि आप सही उत्तर के बारे में आश्वस्त नहीं हैं या किसी प्रश्न का उत्तर नहीं देना चाहते, तो उत्तर-पत्र के सम्बन्धित खाने को खाली छोड़ दें। ओ० एम० आर० उत्तर-पत्र पर काट-पीट, मिटाना और एक से अधिक उत्तर गलत माना जाएगा।

7. Use only **blue or black** ball point pen in the OMR Answer-Sheet.

केवल नीले या काले गोलबंद पेन का ही प्रयोग करें।

19/9/12


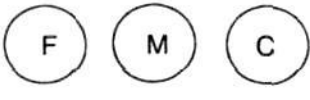

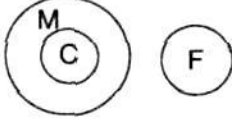
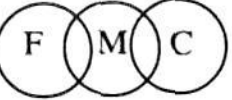


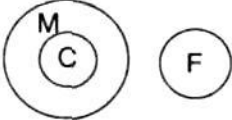
Question No.	Questions
1.	<p>The chart wizard term data series refers to :</p> <p>(1) A chart legend (2) A collection of chart data makers (3) A data label (4) A set of values you plot in a chart</p> <p>Chart विजाई term डाटा सिरिज़ का निम्न में से किससे अभिप्राय है</p> <p>(1) एक चार्ट legend (2) Chart data makers का संग्रह (3) एक डाटा लेबल (4) Values का सेट जो आप चार्ट में plot करते हैं</p>
2.	<p>A typical worksheet has number of columns</p> <p>(1) 128 (2) 256 (3) 512 (4) 1024</p> <p>एक typical worksheet में column होते हैं।</p> <p>(1) 128 (2) 256 (3) 512 (4) 1024</p>
3.	<p>What symbol is used before a number to make a label ?</p> <p>(1) "(quote) (2) =(equal) (3) _(underscore) (4) '(apostrophe)</p> <p>निम्न में से कौन सा symbol एक number के आगे लगाया जाता है जिससे वो label बन जायें।</p> <p>(1) "(quote) (2) =(equal) (3) _(underscore) (4) '(apostrophe)</p>

Question No.	Questions
4.	<p>Which elements of worksheet can be protected from accidental modification</p> <p>(1) Contents (2) Objects (3) Scenarios (4) All of above</p> <p>निम्न में से worksheet के कौन-से तत्व आकस्मिक modification से protect किये जा सकते हैं :</p> <p>(1) Contents (2) Objects (3) Scenarios (4) ऊपर वाले सभी</p>
5.	<p>Data can be arranged in a worksheet in a easy to understand manner using</p> <p>(1) auto formatting (2) applying styles (3) changing fonts (4) all of above</p> <p>आँकड़ों को worksheet में सरल तरीके से निम्न में से किस द्वारा व्यवस्थित किया जा सकता है</p> <p>(1) auto formatting (2) applying styles (3) changing fonts (4) ऊपर वाले सभी</p>
6.	<p>A feature of MS Word that saves the document automatically after certain interval is available on</p> <p>(1) Save tab on Options dialog box (2) Save As dialog box (3) Both of above (4) None of above</p> <p>दस्तावेज को निश्चित समय के बाद स्वयं save करने वाला MS Word का feature निम्न में से किस पर मिलता है।</p> <p>(1) Options डायलाग बॉक्स पर Save tab से (2) Save as डायलाग बाक्स (3) ऊपर वाले दोनों (4) ऊपर में से कोई नहीं</p>

Question No.	Questions
7.	<p>A master document contains, each of which contains a pointer to a file on a disk ?</p> <p>(1) placeholders (2) subdocuments (3) book marks (4) references</p> <p>एक master दस्तावेज में होते हैं, जिसमें प्रत्येक डिस्क पर फाइल के लिये pointer होता है</p> <p>(1) placeholders (2) subdocuments (3) book marks (4) references</p>
8.	<p>Which would you choose to move selected text from one place to another ?</p> <p>(1) Move and Paste (2) Copy and Paste (3) Cut and Paste (4) Delete and Paste</p> <p>निम्न में से selected text को एक जगह से दूसरी जगह move करने के लिए कौन-सा चुनेंगे।</p> <p>(1) Move and Paste (2) Copy and Paste (3) Cut and Paste (4) Delete and Paste</p>
9.	<p>Which enables us to send the same letter to different persons ?</p> <p>(1) macros (2) template (3) mailmerge (4) none</p> <p>निम्न में से एक ही पत्र अलग-अलग लोगों को भेजने के लिये कौन-सा सक्षम बनाता है ?</p> <p>(1) मैक्रोज (2) टेम्पलेट (3) मेलमर्ज (4) कोई भी नहीं</p>
10.	<p>Which key on the keyboard can be used to view slide show ?</p> <p>(1) F1 (2) F2 (3) F5 (4) F10</p> <p>कीबोर्ड से किस key का प्रयोग slide show देखने के लिये किया जा सकता है ?</p> <p>(1) F1 (2) F2 (3) F5 (4) F10</p>

Question No.	Questions
11.	<p>In satellite based communication VSAT stands for :</p> <p>(1) very small aperture terminal (2) varying size aperture terminal (3) very small analog terminal (4) none of above</p> <p>उपग्रह आधारित संचार में VSAT का मतलब है :</p> <p>(1) very small aperture terminal (2) varying size aperture terminal (3) very small analog terminal (4) उपरोक्त में से कोई भी नहीं</p>
12.	<p>The word length of a computer is measured in :</p> <p>(1) Bytes (2) mm (3) m (4) Bits</p> <p>कम्प्यूटर में शब्द लम्बाई निम्न में किससे नापी जाती है :</p> <p>(1) बाइट्स (2) मिलीमीटर (3) मीटर (4) बिट्स</p>
13.	<p>What type of device is computer keyboard :</p> <p>(1) Memory (2) Output (3) Storage (4) Input</p> <p>कम्प्यूटर की बोर्ड किस प्रकार का device है :</p> <p>(1) Memory (2) Output (3) Storage (4) Input</p>

Question No.	Questions
14.	<p>Softwares such as explorer and firefox are referred to as</p> <p>(1) System Software (2) Utility Software</p> <p>(3) Browsers (4) Internet tools</p> <p>सॉफ्टवेयर जैसे कि explorer एवं firefox क्या कहलाते हैं :</p> <p>(1) सिस्टम सॉफ्टवेयर (2) युटिलिटी सॉफ्टवेयर</p> <p>(3) ब्राउज़र्स (4) इन्टरनेट टूल्स</p>
15.	<p>The time elapsed between the initiation of a memory operation and the completion of operation is known as :</p> <p>(1) memory cycle time (2) memory access time</p> <p>(3) transfer time (4) skip time</p> <p>किसी memory operation की शुरूआत से लेकर अंत होने के बीच का समय क्या कहलाता है :</p> <p>(1) memory cycle time (2) memory access time</p> <p>(3) transfer time (4) skip time</p>
16.	<p>A hawker from a point walks 7 km Eastward to turn left and walks 6 km. From there he moves Southward 7 km to turn right and stops after walking 7 km. How far and in which direction is he now ?</p> <p>(1) 8 km, East (2) 13 km, North</p> <p>(3) 1 km, West (4) 1 km, South</p> <p>एक रेहड़ीवाला एक स्थान से 7 कि.मी. पूर्व की ओर जा कर बाएं मुड़ जाता है और 6 कि.मी. चलता है। वहाँ से दक्षिण की ओर 7 कि.मी. चलता है तथा दाएं मुड़ कर 7 कि.मी. बाद रुक जाता है। वह अब प्रारम्भिक स्थान से कितनी दूर एवं किस दिशा में है ?</p> <p>(1) 8 कि.मी. पूर्व (2) 13 कि.मी. उत्तर</p> <p>(3) 1 कि.मी. पश्चिम (4) 1 कि.मी. दक्षिण</p>

Question No.	Questions
<p>17.</p>	<p>Which diagram represents ? Father (F), Mother (M), Child (C)</p> <p>(1) </p> <p>(2) </p> <p>(3) </p> <p>(4) </p> <p>कौन-सा चित्र निरूपण करता है ? पिता (F), माता (M), बालक (C)</p> <p>(1) </p> <p>(2) </p> <p>(3) </p> <p>(4) </p>
<p>18.</p>	<p>Choose the odd one</p> <p>(1) Geometry</p> <p>(2) Algebra</p> <p>(3) Arithmetic</p> <p>(4) Mathematics</p> <p>वेमल चुनें</p> <p>(1) ज्यामिति</p> <p>(2) बीजगणित</p> <p>(3) अंकगणित</p> <p>(4) गणित</p>

Question No.	Questions
19.	<p>What is equal to</p> $\frac{0.9 \times 0.01 \times 0.03}{0.27} = ?$ <p>(1) 0.01 (2) 0.001 (3) 0.10 (4) 0.0001</p> <p>_____ के बराबर क्या होगा</p> $\frac{0.9 \times 0.01 \times 0.03}{0.27} = ?$ <p>(1) 0.01 (2) 0.001 (3) 0.10 (4) 0.0001</p>
20.	<p>Find one number from the given alternatives which can fill both question marked spaces :</p> $\frac{\sqrt{625}}{?} = \frac{?}{16}$ <p>(1) 5 (2) 4 (3) 256 (4) 20</p> <p>दिए गए विकल्पों में से ऐसी संख्या चुनें जो दोनों प्रश्न चिह्नित स्थानों को भर सके :</p> $\frac{\sqrt{625}}{?} = \frac{?}{16}$ <p>(1) 5 (2) 4 (3) 256 (4) 20</p>
21.	<p>Who was the first woman to become the Chief Minister of a State in India ?</p> <p>(1) Sarojini Naidu (2) Sucheta Kriplani</p> <p>(3) Vijai Lakshmi Pandit (4) Rajkumari Amrit Kaur</p> <p>भारत के किसी राज्य की मुख्य मन्त्री बनने वाली प्रथम महिला कौन थी ?</p> <p>(1) सरोजिनी नायडू (2) सुचेता कृपलानी</p> <p>(3) विजय लक्ष्मी पंडित (4) राजकुमारी अमृत कौर</p>

Question No.	Questions
22.	<p>Raman Singh is the Chief Minister of</p> <p>(1) Chhattisgarh (2) Tripura</p> <p>(3) Jharkhand (4) Madhya Pradesh</p> <p>रमन सिंह के मुख्य मन्त्री हैं।</p> <p>(1) छत्तीसगढ़ (2) त्रिपुरा</p> <p>(3) झारखण्ड (4) मध्य प्रदेश</p>
23.	<p>What is the total number of nationalized banks in India ?</p> <p>(1) 21 (2) 20</p> <p>(3) 14 (4) 6</p> <p>भारत में राष्ट्रीयकृत बैंकों की कुल संख्या कितनी है ?</p> <p>(1) 21 (2) 20</p> <p>(3) 14 (4) 6</p>
24.	<p>Which state among the following has the highest literacy rate ?</p> <p>(1) Goa (2) Maharashtra</p> <p>(3) Himachal Pradesh (4) Mizoram</p> <p>निम्न में से किस राज्य की साक्षरता दर सर्वाधिक है ?</p> <p>(1) गोवा (2) महाराष्ट्र</p> <p>(3) हिमाचल प्रदेश (4) मिज़ोरम</p>
25.	<p>Who did ransack Somnath temple in 1026 AD ?</p> <p>(1) Mohammad Bin Qasim (2) Mahmud of Ghazni</p> <p>(3) Mohammad Ghorī (4) Genghis Khan</p> <p>सन् 1026 में सोमनाथ मन्दिर को किसने नष्ट किया ?</p> <p>(1) मोहम्मद बिन कासिम (2) महमूद गज़नी</p> <p>(3) मोहम्मद गौरी (4) चंगेज़ खान</p>

Question No.	Questions
26.	<p>निम्नलिखित शब्दों में से शुद्ध शब्द चुनिए।</p> <p>(1) अमववस्या (2) अमवश्या (3) अमावश्या (4) अमावस्या</p>
27.	<p>निम्नलिखित शब्द समूहों में से कौन-सा समूह पूर्णरूप से "उपेक्षा" शब्द का पर्यायवाची है ?</p> <p>(1) अवहेलना, तिरस्कार, उल्लंघन (2) तिरस्कार, लापरवाही, श्लाघा (3) उल्लंघन, उपयुक्त, विरक्ति (4) लापरवाही, अवहेलना, विपरीत</p>
28.	<p>निम्नलिखित शब्दों में से "वादी" शब्द के विपरीतार्थक शब्द का चयन कीजिए।</p> <p>(1) प्रतियोगी (2) प्रतिवादी (3) सहयोगी (4) साम्यवादी</p>
29.	<p>नीचे दिए गए वाक्य में रिक्त स्थान भरने के लिए सही विकल्प चुनिए।</p> <p>..... का नाम जीवन है और स्थिरता का मृत्यु।</p> <p>(1) स्थिति (2) नियति (3) सुमति (4) गति</p>
30.	<p>निम्नलिखित वाक्य में रिक्त स्थान भरने हेतु सही विकल्प का चयन कीजिए।</p> <p>बन्दूक एक उपयोगी है।</p> <p>(1) अस्त्र (2) शस्त्र (3) औजार (4) उपकरण</p>

Question No.	Questions
34.	<p>Read the following passage and select the statement best supported by it.</p> <p>Road accidents can be prevented if the quality of roads is improved and the drivers are imparted training in safety rules which they must follow. It is also equally necessary that illumination on the roads is adequate so as to prevent accidents during nights.</p> <p>Statements :</p> <ol style="list-style-type: none">(1) Road accidents are man-made and are always avoidable.(2) Road accidents are solely due to inadequate illumination.(3) Drivers lack of knowledge of safety rules is the only cause of road accidents.(4) Road accidents result in large number of deaths.
35.	<p>Read the following passage and select the correct answer</p> <p>Leg pain or numbness with or without back pain is a common reason for individuals visiting various clinics. Usually there is no history of injury to the leg and lower back. Leg pain often starts in the lower back where the sciatic nerve originates. This is similar to power going off in our houses when the problem originates at the electric pole or elsewhere.</p> <ol style="list-style-type: none">(1) Leg pain starts from the place of origin of sciatic nerve(2) Injury is the only cause of leg pain(3) Leg pain is not akin to power failure in the houses which occurs at the electric pole(4) There is no need for diagnosis of leg pain.

Question No.	Questions
39.	<p>To delete an embedded object, first</p> <ol style="list-style-type: none"> (1) Double click the object (2) Select the object by clicking it (3) Press the Shift + Delete keys (4) Select it and then press the delete key <p>Embedded आब्जेक्ट को delete करने के लिये पहले आप क्या करते हैं</p> <ol style="list-style-type: none"> (1) Object को डबल क्लिक करना (2) Object को क्लिक करके सेलेक्ट करना (3) Shift + Delete चाबियों को दबायें (4) पहले इसे सेलेक्ट करें और फिर delete चाबी दबायें
40.	<p>Tab scrolling button</p> <ol style="list-style-type: none"> (1) Allows you to view a different worksheet (2) Allows you to view additional worksheet rows down (3) Allows you to view additional worksheet columns to the right (4) Allows you to view additional sheets tabs <p>टेब स्करोलिंग बटन निम्न में से क्या करता है</p> <ol style="list-style-type: none"> (1) एक अलग वर्कशीट को देखने के लिये सक्षम बनाता है (2) additional वर्कशीट rows down को देखने के लिये सक्षम बनाता है (3) additional वर्कशीट columns to the right को देखने के लिये सक्षम बनाता है (4) Additional sheets tabs को देखने के लिये सक्षम बनाता है

Question No.	Questions
49.	<p>What does optic fibre use to transmit data :</p> <p>(1) vibrations (2) sound (3) electric current (4) light</p> <p>Optic Fibre में डेटा संचारण के लिए किसका प्रयोग होता है :</p> <p>(1) कंपन (2) ध्वनि (3) विद्युत धारा (4) प्रकाश</p>
50.	<p>What is Binary equivalent of 23 :</p> <p>(1) 1010 (2) 1101 (3) 10111 (4) 10101</p> <p>दशमलव नम्बर 23 का बाइनरी equivalent क्या है :</p> <p>(1) 1010 (2) 1101 (3) 10111 (4) 10101</p>
51.	<p>सही अर्थ वाला विकल्प चुनिए। परिचारिका -</p> <p>(1) कार्यकर्ता (2) स्त्री (3) सुन्दरी (4) दासी</p>
52.	<p>निम्नलिखित शब्दों में से कौन-सा शब्द अशुद्ध है ?</p> <p>(1) हिन्दु (2) निरीक्षण (3) निश्चित (4) पड़ोसिन</p>
53.	<p>निम्नलिखित शब्दों में से कौन-सा "अन्धा" शब्द का पर्यायवाची नहीं है ?</p> <p>(1) नेत्रहीन (2) दृष्टगोचर (3) चक्षुविहीन (4) प्रज्ञाचक्षु</p>

Question No.	Questions
54.	<p>निम्नलिखित शब्दों में से "सार्थक" शब्द के विपरीतार्थक शब्द का चयन कीजिए।</p> <p>(1) अनेकार्थक (2) निराकार (3) निरर्थक (4) निरक्षर</p>
55.	<p>सही अर्थ वाला विकल्प चुनिए।</p> <p>दस्यु -</p> <p>(1) दोस्त (2) दुश्मन (3) चोर (4) विद्वान</p>
56.	<p>नीचे दिए गए विकल्पों में से सही वाक्य छाँटिए।</p> <p>(1) वह सब भले लोग हैं। (2) मनुष्य ईश्वर की अदभुत कृति है। (3) भीड़ में चार जयपुर के व्यक्ति थे। (4) वे सारे गुप्त रहस्य प्रकट कर देगा।</p>
57.	<p>नीचे लिखे वाक्य को चार पदों में बाँटकर क्रमानुसार लिखा गया है। इनमें से एक पद, वाक्य के संदर्भ में, त्रुटियुक्त है। त्रुटियुक्त पद को छाँटिए।</p> <p>मेरे पति कामकाय के सिलसिले में बहुत व्यस्त रहते हैं।</p> <p>(1) मेरे पति (2) कामकाय के सिलसिले में (3) बहुत व्यस्त रहते हैं (4) कोई त्रुटि नहीं</p>

Question No.	Questions
58.	<p>निम्नलिखित गद्यांश को पढ़कर इसके नीचे दिए गए उत्तरों में से सही उत्तर को छाँटिए।</p> <p>मेरी आँखों में एक मृतक की परछाईं तैर रही है। मेरी कनपटी में एक खूंखार किसी की जान लेने को आतुर है। वह कल्ले आम कर देने की अंतिम इच्छा रखता है। समाज में आतंक फैलाने को वह अपना धर्म मानता है। उपर्युक्त गद्यांश में किस भाव की अभिव्यक्ति है।</p> <p>(1) हिंसा (2) बेवसी (3) उदासी (4) हताशा</p>
59.	<p>सही अर्थ वाला विकल्प चुनिए।</p> <p>आलय -</p> <p>(1) पाठशाला (2) घर (3) दुकान (4) विश्वविद्यालय</p>
60.	<p>नीचे एक शब्द की वर्तनी के अनेक रूप प्रस्तुत हैं। शुद्ध वर्तनी का चयन कीजिए।</p> <p>(1) कवित्री (2) कवयित्री (3) कवियत्री (4) कवियित्री</p>
61.	<p>To open the existing presentation, press</p> <p>(1) Ctrl + L (2) Ctrl + N (3) Ctrl + A (4) Ctrl + O</p> <p>Existing प्रेजेंटेशन को खोलने के लिये दबायें।</p> <p>(1) Ctrl + L (2) Ctrl + N (3) Ctrl + A (4) Ctrl + O</p>

Question No.	Questions
62.	<p>After choosing a predefined template, which option has to be chosen to change the background color ?</p> <p>(1) Design Template (2) Color Scheme (3) Animation Scheme (4) Color Effects</p> <p>एक predefined टेम्पलेट को चुनने के बाद, निम्न में से कौन-सा विकल्प background color को बदलने के लिये प्रयोग होता है ?</p> <p>(1) Design Template (2) Color Scheme (3) Animation Scheme (4) Color Effects</p>
63.	<p>How can the slide show be repeated continuously ?</p> <p>(1) loop continuously until 'Esc' (2) repeat continuously (3) loop more (4) none</p> <p>Slide show को निम्न में से किस द्वारा लगातार repeat किया जा सकता है ?</p> <p>(1) loop continuously until 'Esc' (2) repeat continuously (3) loop more (4) उपरोक्त में से कोई नहीं</p>
64.	<p>In PowerPoint, when the mouse pointer appears as this it indicates that Draw Table feature is on</p> <p>(1) Solid plus sign (2) Solid arrow (3) I-beam (4) Pencil</p> <p>PowerPoint में mouse pointer निम्न में से दिखाई देता है जो कि यह बताता है कि Draw Table फीचर on है।</p> <p>(1) Solid plus sign (2) Solid arrow (3) I-beam (4) Pencil</p>

Question No.	Questions
68.	<p>When you put on the computer in morning it is called :</p> <p>(1) hot boot (2) cold boot (3) warm boot (4) none of these</p> <p>जब कम्प्यूटर को सुबह on किया जाता है, तो यह कहलाता है :</p> <p>(1) हॉट बूट (2) कोल्ड बूट (3) वार्म बूट (4) उपरोक्त में से कोई भी नहीं</p>
69.	<p>Exploring the world wide web is called :</p> <p>(1) Net surfing (2) Internet explorer (3) Net navigation (4) Netscape Navigator</p> <p>वर्ल्ड वाइड वेब को explore करने को क्या कहा जाता है :</p> <p>(1) Net surfing (2) Internet explorer (3) Net navigation (4) Netscape Navigator</p>

Question No.	Questions
76.	<p>Select the antonym of the word "Replaceable" from the options given below</p> <p>(1) Irreplacable (2) In replaceable (3) Irreplaceable (4) Unreplaceable</p>
77.	<p>Select the correct antonym of the word "Measurable" from the options given below</p> <p>(1) Inmeasurable (2) Immeasurable (3) Unmeasurable (4) None of the above</p>
78.	<p>Select the option which is antonym of the word "Encryption".</p> <p>(1) Uncryption (2) Description (3) De-encryption (4) Decryption</p>
79.	<p>Select the option with correct spelling of the word</p> <p>(1) Beleaguer (2) Beleagur (3) Beleageur (4) Beleagar</p>
80.	<p>Select the option with correct spelling of the word</p> <p>(1) Chauffar (2) Chauffer (3) Chouffer (4) Chauffeur</p>

Question No.	Questions
85.	Select the option having meaning similar to the word "Abandon". (1) Renounce (2) Retain (3) Maintain (4) Capture
86.	Name the Prime Minister of Russia (1) Vladimir Putin (2) Leonid Tibilov (3) Valentin Topov (4) Dmitry Medvedev रुस के प्रधान मन्त्री का नाम बताएं। (1) व्लादीमीर पुतिन (2) लियोनिद तिबिलोव (3) वैलेन्टिन तोपोव (4) दमित्रि मेदवेदेव
87.	Choose the smallest country among the following in area (1) San Marino (2) Tuvalu (3) Nauru (4) Monaco निम्न में क्षेत्र में सबसे छोटे देश को चुनें। (1) सान मेरिनो (2) टुवालु (3) नोरु (4) मोनेको
88.	Excepting China and India, which country has the biggest population in Asia? (1) Japan (2) Bangladesh (3) Indonesia (4) Pakistan चीन व भारत को छोड़कर एशिया में किस देश की जनसंख्या सर्वाधिक है ? (1) जापान (2) बांग्लादेश (3) इन्डोनेशिया (4) पाकिस्तान

Question No.	Questions
89.	<p>Angkorwat temple complex is situated in</p> <p>(1) Indonesia (2) Cambodia (3) Thailand (4) Malaysia</p> <p>अंगकोरवाट मन्दिर समूह में स्थित है।</p> <p>(1) इन्डोनेशिया (2) कम्बोडिया (3) थाइलैण्ड (4) मलेशिया</p>
90.	<p>What is the capital of Qatar ?</p> <p>(1) Doha (2) Muscat (3) Kuwait (4) Manama</p> <p>कतर की राजधानी क्या है ?</p> <p>(1) दोहा (2) मस्कट (3) कुवैत (4) मनामा</p>
91.	<p>Which animal figure is not adopted in the National Emblem of India ?</p> <p>(1) Lion (2) Bull (3) Elephant (4) Horse</p> <p>भारत के राष्ट्रीय चिह्न में किस पशु की आकृति को नहीं लिया गया है ?</p> <p>(1) शेर (2) बैल (3) हाथी (4) घोड़ा</p>
92.	<p>On June 1st, 2012 which Vikram Samvat is going on ?</p> <p>(1) 2068 (2) 2069 (3) 2070 (4) 2012</p> <p>जून 1, 2012 को कौन-सा विक्रम संवत् चल रहा है ?</p> <p>(1) 2068 (2) 2069 (3) 2070 (4) 2012</p>

Question No.	Questions
93.	<p>Light travels from the Sun to the Earth approximately in</p> <p>(1) 8.3 minute (2) 24 hours (3) 364.4 days (4) One light year</p> <p>सूर्य से पृथ्वी तक प्रकाश लगभग में पहुँच जाता है।</p> <p>(1) 8.3 मिनट (2) 24 घंटे (3) 364.4 दिन (4) एक प्रकाश वर्ष</p>
94.	<p>What is the normal human body temperature ?</p> <p>(1) 36.9°C (2) 98.4°C (3) 100°C (4) 50°C</p> <p>सामान्य मानव शरीर तापमान क्या है ?</p> <p>(1) 36.9°C (2) 98.4°C (3) 100°C (4) 50°C</p>
95.	<p>Which state among the following has the least number of members in Vidhan Sabha ?</p> <p>(1) Sikkim (2) Goa (3) Mizoram (4) Manipur</p> <p>निम्न में किस राज्य की विधान सभा में सबसे कम सदस्य हैं ?</p> <p>(1) सिक्किम (2) गोवा (3) मिज़ोरम (4) मणिपुर</p>
96.	<p>Simplify the following.</p> <p>$15 - 11 \times 14 \div 7 - (-7) = ?$</p> <p>(1) 44 (2) 14 (3) 0 (4) 15</p> <p>निम्न को सरल करें।</p> <p>$15 - 11 \times 14 \div 7 - (-7) = ?$</p> <p>(1) 44 (2) 14 (3) 0 (4) 15</p>

Question No.	Questions
97.	<p>Complete the series.</p> <p>4, 16, 21, 5, 20, 25, 6, 24 —.</p> <p>(1) 29 (2) 30 (3) 18 (4) 7</p> <p>शृंखला को पूरा करें।</p> <p>4, 16, 21, 5, 20, 25, 6, 24 —.</p> <p>(1) 29 (2) 30 (3) 18 (4) 7</p>
98.	<p>Complete the analogy.</p> <p>Tractor : Tractor :: Horse : ?</p> <p>(1) Stable (2) Saddle (3) Cart (4) Engine</p> <p>सादृश्य को पूरा करें :</p> <p>ट्रेक्टर : ट्रेलर :: घोड़ा : ?</p> <p>(1) अस्तबल (2) काठी (3) गाड़ी (4) ईजन</p>
99.	<p>Choose the analogous to</p> <p>Butter : Milk</p> <p>(1) Pencil : Lead (2) Class : Student (3) Jaggery : Sugarcane (4) Author : Book</p> <p>सदृश चुनें</p> <p>मक्खन : दूध</p> <p>(1) पेन्सिल : सिकका (2) कक्षा : विद्यार्थी (3) गुड़ : गन्ना (4) लेखक : पुस्तक</p>

